





3- Fonction d'usage

3.1 Exemples

Complétez les cases vides du tableau. Identifiez les objets et posez vous la question "A quoi ça sert", afin de trouver la fonction d'usage.

Objets				
Nom	Coupe-vent			Stylo - lampe
Fonction d'usage				

3.2 Fonction d'usage commune à plusieurs objets.

Observez les objets ci-dessous.



Quelle est la fonction d'usage commune à ces 3 objets ?



.....

3.3 Plusieurs fonctions d'usage pour un seul objet.

Dans la question 3.1, quelle est la particularité du stylo-lampe ?

.....

Pour les 2 objets ci-dessous, dénombrez et déterminez leurs fonctions d'usage.

	Une règle graduée possède fonctions d'usage, qui sont : - - - -
	Un couteau suisse possède fonctions d'usage, qui sont : - - - -

